

CM2 – Maths – Vendredi 9 avril 2021

Corrections des exercices page 180-181

Cherchons ensemble

- a. Le continent africain représente 22 % de la superficie des différents continents.
- b. Le continent le plus vaste est le continent asiatique avec 32 %.
- c. La superficie de l'Asie a été représentée en rouge.
- d. Ce graphique est un graphique circulaire.

- 1** * a. Le sport préféré des élèves est le football (95).
b. Le sport le moins cité est la danse (30).
c. $95 + 55 + 70 + 30 = 250$
250 élèves ont été interrogés.

2 *

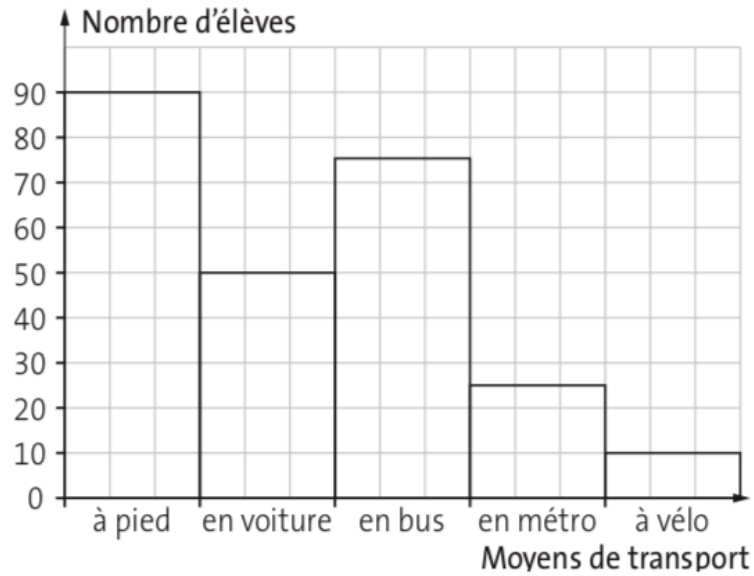
Temps	Poids
Naissance	250 g
Semaine 1	500 g
Semaine 2	850 g
Semaine 3	1 000 g
Semaine 4	1 400 g
Semaine 5	1 500 g

- 3** * a. C'est à Marseille qu'il y a le plus d'habitants (800 000).
b. À Lyon, il y a un peu plus de 400 000 habitants.
c. Il y a environ 200 000 habitants d'écart entre Lyon et Nantes.

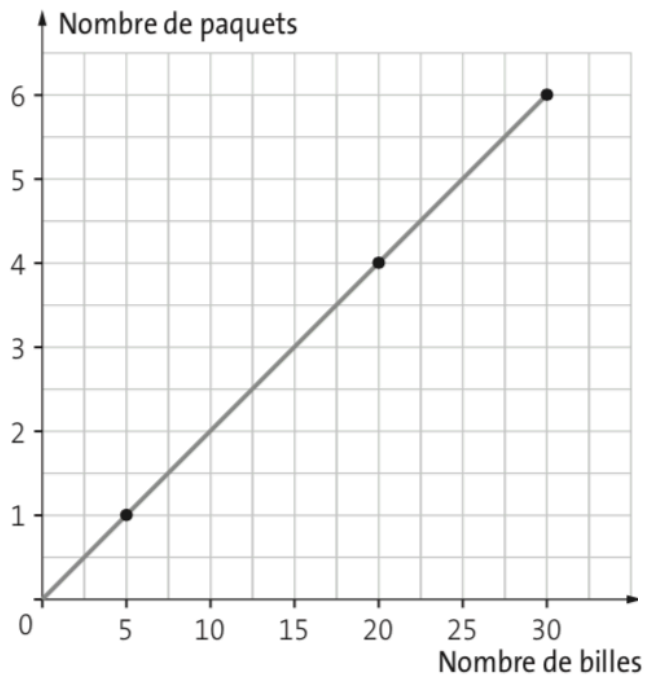
SCIENCES ET TECHNOLOGIE

- 4** * a. C'est au mois de juillet qu'il pleut le moins.
b. Précipitations les moins fortes : environ 7 mm.
Précipitations les plus fortes : environ 76 mm.
 $76 - 7 = 69$
La différence de précipitations est de 69 mm.
c. La température moyenne du mois de décembre est d'environ 8 °C.
d. La température maximale relevée au cours de l'année est d'environ 25 °C.

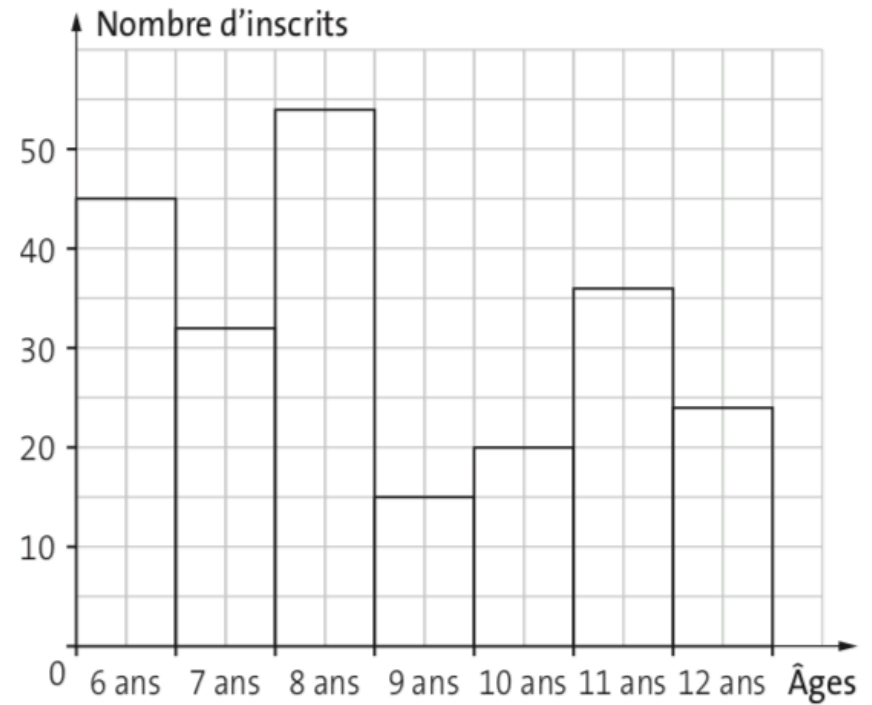
5 * Moyens de transport utilisés pour se rendre à l'école



6 * La courbe est rectiligne et passe par 0 : c'est une situation de proportionnalité.



7 * Âges des enfants inscrits au centre aéré



- a. Pour 2 paquets, on a 10 billes.
- b. Pour 5 paquets, on a 25 billes.
- c. Quand on a 15 billes, on a 3 paquets.