

## Les mots étiquettes

### 1. Trouve le mot étiquette pour chacune des listes:

• poire-cerise- pomme- banane-noix- fraise

fruits

• lion -tigre -panthère -loup -lynx

animaux

• brioche -croissant -éclair -millefeuille

pâtisserie

• muguet -violette- rose- crocus- tulipe

fleurs

### 2. Classe les mots suivants dans le tableau:

Sandale -méchanceté- bureau -jalousie- chaise- colère- peur  
espadrille- armoire- joie- botte- table-basket - lit- chausson

chaussures	meubles	sentiment
sandale	bureau	méchanceté
espadrille	chaise	jalousie
botte	armoire	colère
basket	table	peur
chausson	lit	joie

### 3. Trouve 5 mots pour chaque mot étiquette et écris-les sur ton cahier


- légumes
- ville
- sport

### Complète les phrases en utilisant le présent.

- Mon frère et moi (grandir) **grandissons** beaucoup.
- Les spectateurs (applaudir) **applaudissent** la fin de chaque chanson.
- Mon cousin (réagir) **réagit**... dès qu'on l'embête.
- Je (saler) **sais**... mes chaussures en jouant au foot.
- Tu (choisir) **choisis**... les céréales de ton petit-déjeuner.
- Vous (réfléchir) **réfléchissez**... à votre futur.
- Ma sœur (survir) **surgit**... subitement devant nous.
- Les ouvriers (démolir) **démolissent** la vieille maison en ruine.
- L'avion (atterrir) **atterrit**... brutalement sur la piste.
- Nous (réussir) **réussissons** toujours à trouver une solution.
- Pierre et toi (agir) **agissez**... sans réfléchir.

1

J'ai colorié des rectangles de 8 carreaux.





Ecris toutes les multiplications possibles.

$1 \times 8 = 8$        $4 \times 2 = 8$   
 $2 \times 4 = 8$        $8 \times 1 = 8$

2

J'ai colorié des rectangles de 12 carreaux.



Ecris toutes les multiplications possibles.

$1 \times 12 = 12$        $6 \times 2 = 12$   
 $4 \times 3 = 12$        $12 \times 1 = 12$   
 $3 \times 4 = 12$        $2 \times 6 = 12$

3

A ton tour colorie des rectangles ou carrés de 16 cases, puis de 24 cases sur ton brouillon.



4

On a commencé à placer les résultats de Bob l'éponge dans la table de multiplication, continue en plaçant, si tu le peux, les résultats du n°2 et 3 dans la table.

x	0	1	2	3	4	5	6	7	8	9
0			0	0						
1			2	3					8	
2	0	2	4	6	8	10	12	14	16	18
3	0	3	6	9	12	15	18	21	24	27
4			8	12						
5			10	15						
6			12	18						
7			14	21						
8		8	16	24						
9			18	27						

$2 \times 4 = 8$

$8 \times 1 = 8$



→ 3) (16)  $4 \times 4$   
 $8 \times 2$   
 $2 \times 8$   
 $16 \times 1$   
 $1 \times 16$

(24)  $2 \times 6$        $1 \times 24$   
 $6 \times 2$        $24 \times 1$   
 $8 \times 3$        $12 \times 2$   
 $3 \times 8$        $2 \times 12$


1

Dessine et écris l'opération.

Un train de marchandises comporte 4 wagons transportant chacun 6 voitures neuves.




Combien transporte-t-il de voitures au total ?




$4 \times 6 = 24$   
 Il en transporte 24.

Dans une cantine, il y a 6 tables de 4 places chacune.




Combien d'enfants peuvent manger à la cantine ?




$6 \times 4 = 24$   
24 enfants peuvent manger à la cantine.

Un jardinier plante 6 rangées de 5 salades.




Combien y a-t-il de salades ?

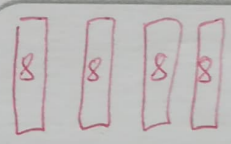


$6 \times 4 = 24$   
 Il a planté 24 salades.

Maman a acheté 4 paquets de 8 gâteaux.



Combien y a-t-il de gâteaux ?



$4 \times 8 = 32$   
 Il y aura 32 gâteaux.

## LECTURE D'INFÉRENCES 1.

1

Maman installe bébé dans son petit siège à l'arrière. Elle s'assied à l'avant et attache sa ceinture de sécurité. Elle démarre.

Où est Maman ?

Elle est dans la voiture

2

Ce matin, tout le monde cherche notre chat qui a disparu. Soudain, ma sœur, debout devant la porte de la maison, entend un miaulement semblant venir du ciel. Papa a compris, il a déjà posé l'échelle contre le mur de la maison pour grimper tout là-haut sur les tuiles.

Où le chat s'est-il réfugié ?

Il est sur le toit

3

Marylou lave son bol et demande à sa maman s'il est l'heure de partir à l'école.

Dans quelle pièce de la maison est Marylou ?

Elle est dans la cuisine

4

Julien a réussi à grimper en s'accrochant à l'écorce rugueuse. Il est déjà à deux mètres du sol. Il essaie maintenant d'attraper la première branche.

Où Julien est-il monté ?

Il est monté dans un arbre.