

Prénom : _____

Date: _____

Nombres et quantités : de 0 à 199 999



1 Encadre le nombre avec les nombres de ton choix:

.....

.....

.....

.....

.....

.....

2 Ecris les nombres dans l'ordre croissant, du plus petit au plus grand:

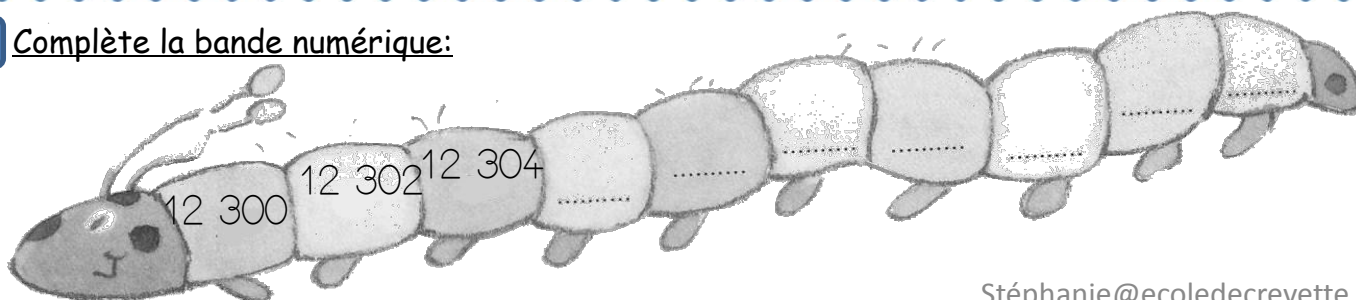
156 852 - 164 785 - 125 467 - 75 986 - 146 257 - 6 345

<input type="text"/>	<input type="text"/>	<input type="text"/>	<input type="text"/>	<input type="text"/>	<input type="text"/>
----------------------	----------------------	----------------------	----------------------	----------------------	----------------------

3 Ecris les nombres en lettres:

156 232	
102 654	
132 498	
195 657	
119 895	

4 Complète la bande numérique:



Prénom : _____

Date: _____

Nombres et quantités : de 0 à 199 999



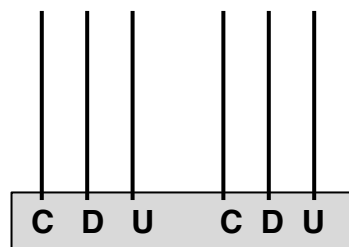
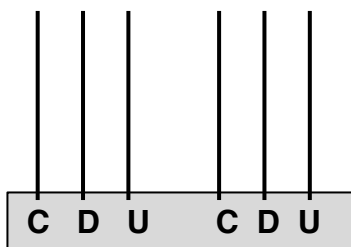
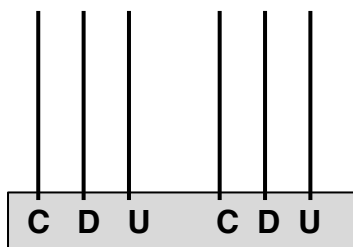
1 Complète avec **<**, **>** ou **=** :

156 210 cent - cinquante - quatre - mille - deux - cent

169 283 cent - quarante - cinq - mille - huit - cent

146 360 cent - quarante - six mille - quatre - cent

2 Complète les abaques :



3 Complète le tableau :

145 237	$(1 \times 100\ 000) + (4 \times 10\ 000) + (5 \times 1\ 000) + (2 \times 100) + (3 \times 10) + 7$
186 543	$(\quad \times 100\ 000) + (\quad \times 10\ 000) + (\quad \times 1\ 000) + (\quad \times 100) + (\quad \times 10) +$
100 409	$(\quad \times 100\ 000) + (\quad \times 10\ 000) + (\quad \times 1\ 000) + (\quad \times 100) + (\quad \times 10) +$
108 258	$(\quad \times 100\ 000) + (\quad \times 10\ 000) + (\quad \times 1\ 000) + (\quad \times 100) + (\quad \times 10) +$
	$(1 \times 100\ 000) + (5 \times 10\ 000) + (6 \times 1\ 000) + (4 \times 100) + (5 \times 10) + 3$
	$(1 \times 100\ 000) + (9 \times 10\ 000) + (3 \times 1\ 000) + (5 \times 100) + (5 \times 10) + 9$

Prénom : _____

Date: _____

Nombres et quantités : de 0 à 199 999



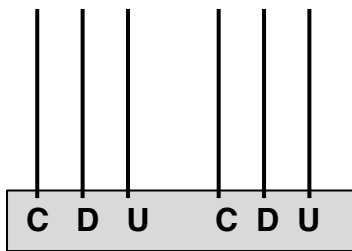
1 Complète les compteurs :

156 894
156 895

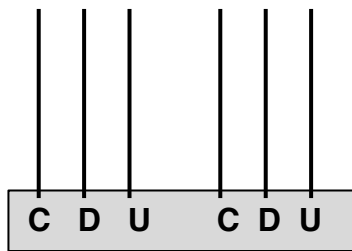
154 162
154 262

145 457
145 467

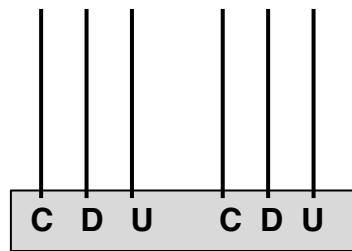
2 Complète les abaques :



146 845



194 852



165 423

3 Relie les nombres à leur place sur la droite graduée :

125 212

125 229

125 235

125 239

125 251

125 210

125 220

125 230

125 240

125 250