

Nombres et quantités : de 0 à 199 999



1 Ecris les nombres suivants en chiffres:

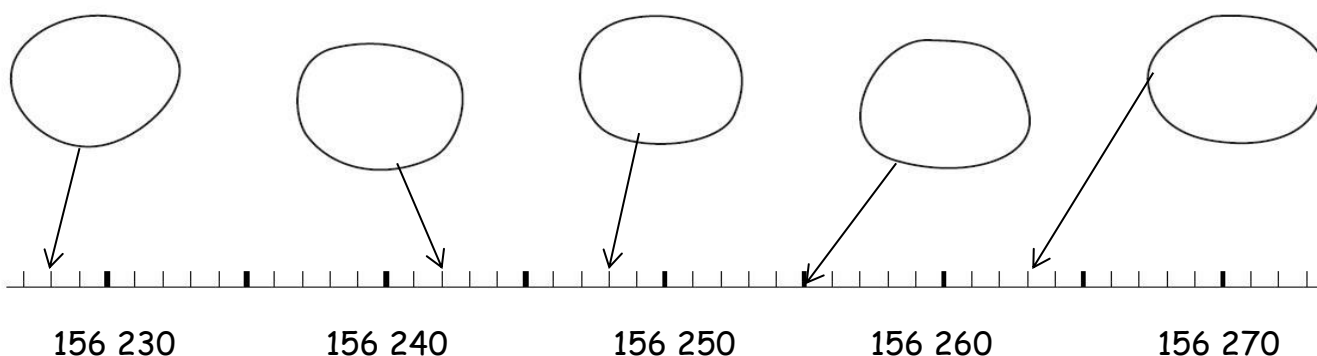
Cent quarante mille neuf cent cinquante-deux :

Cent vingt cinq mille sept cent quatorze:

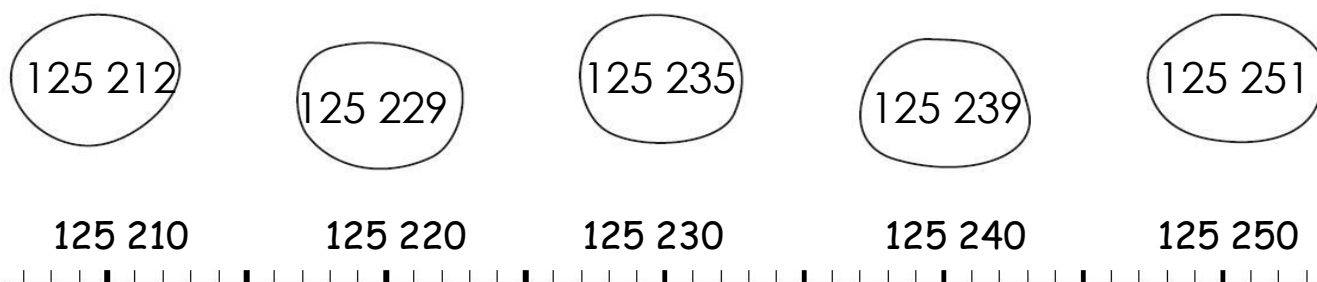
Cent trente cinq mille six cent trois:

Cent quinze mille neuf cent seize:

2 Ecris les nombres correspondants dans les bulles :



3 Relie les nombres à leur place sur la droite graduée :



Nombres et quantités : de 0 à 199 999



1 Ecris les nombres suivants en chiffres:

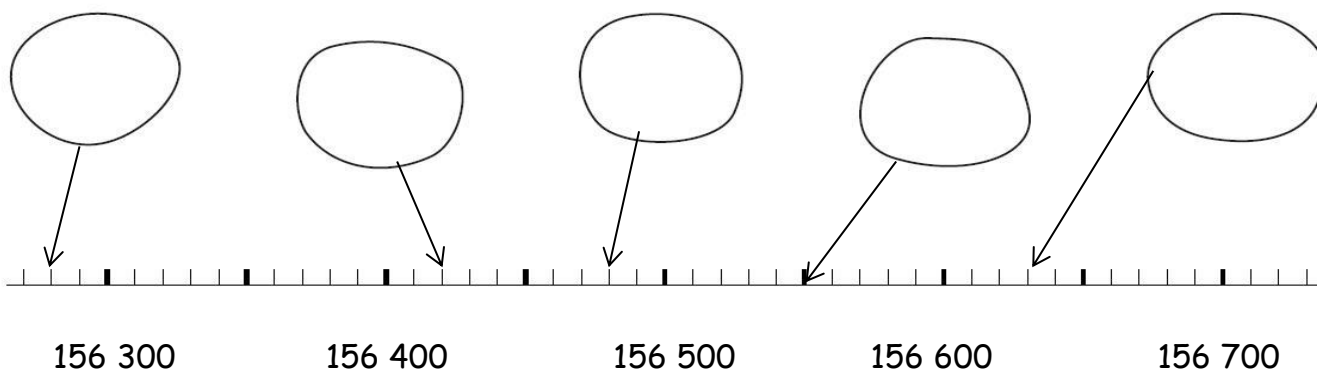
Cent soixante quinze mille deux:

Cent quatre vingt six mille soixante :

Cent mille trois cent vingts :

Cent treize mille six cent huit:

2 Ecris les nombres correspondants dans les bulles :



3 Colorie en bleu les unités, en rouge les dizaines, en vert les centaines, en jaune les unités de mille, en orange les dizaines de milles et en rose les centaines de milles.

156 289

158 001

100 852

115 215

126 003

105 236

162 000

165 248