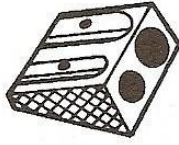


## Nombres et quantités: de 0 à 499

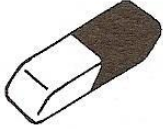


**1** Ecris les nombres manquants:

386	....	....	389
-----	------	------	-----




....	....	....	426
------	------	------	-----



392	....	....	395
-----	------	------	-----

417	....	....	....
-----	------	------	------



....	....	....
....	....	....
....	....	....
479	....	....
....	....	189

355	....	....	....
....	....	....	....
....	....	....	....
....	....	....	....
....	....	....	365

**2** Colorie les nombres identiques :

trois - cent - quatre - vingt - treize

426

$300 + 90 + 3$

$400 + 20 + 6$

$400 + 9$

409

$100 + 40 + 9$

quatre - cent - neuf

cent - quarante - neuf

393

149

quatre - cent - vingt - six

**3** Complète :

382	$300 + 80 + 2$
276	
487	
349	

	$100 + 50 + 6$
	$400 + 90 + 2$
	$300 + 40 + 8$
	$400 + 80 + 1$

## Nombres et quantités : de 0 à 499



1 Complète le tableau:

nombre avant	nombre	nombre après
	246	
309		
		461
397		

2 Complète avec  $<$ ,  $>$  ou  $=$ :

3  15

365

.....

395

330

.....

303

219

.....

291

390

.....

309

467

.....

476

198

.....

189

441

.....

374

308

.....

288

3 Relie les nombres à leur place sur la droite graduée

357

362

374

379

392

350

360

370

380

390

4 Complète la bande numérique:

