

Prénom : _____

Date: _____

Nombres et quantités : de 0 à 499

3  15

1 Complète avec $<$, $>$ ou $=$:

403

.....

$400 + 30$

269

.....

$200 + 70$

458

.....

$400 + 50 + 8$

320

.....

$300 + 100 + 1$

456

.....

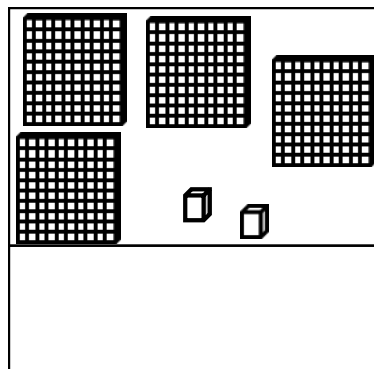
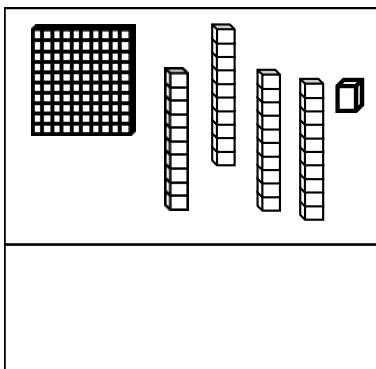
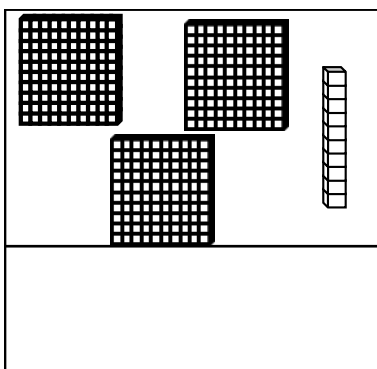
$300 + 60 + 5$

275

.....

$100 + 100 + 100$


2 Compte et complète :



3 Ecris les nombres du plus grand au plus petit:

305 - 86 - 385 - 356 - 396 - 153 - 369

4 Complète :



Prénom : _____

Date: _____

Nombres et quantités : de 0 à 499

3  15

1 Complète avec $<$, $>$ ou $=$:

352 quatre - cent - deux

287 cent - dix - sept

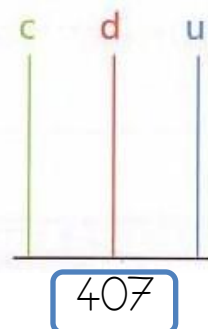
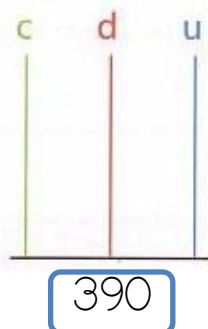
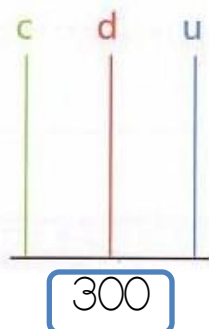
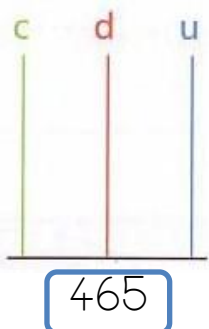
325 trois - cent - treize

403 quatre - cent - trois

436 trois - cent - quarante

164 cent - soixante

2 Complète les abaques :



3 Complète le tableau :

127	$100 + 20 + 7$	$1c + 2d + 7u$
478		
383		
275		
246		

4 Complète :

