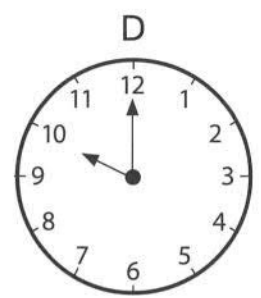







# L'heure (I)

① **Attribue à chaque horloge deux résultats qui correspondent à l'heure qu'elle indique.**

vingt-deux heures • six heures moins le quart • neuf heures et demie • dix-sept heures quarante-cinq • vingt heures trente • vingt et une heures trente • dix heures • huit heures et demie



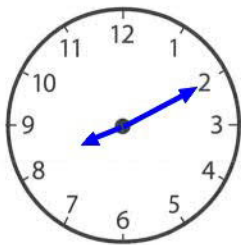
A = huit heures et demie - vingt heures trente

B = neuf heures et demie - vingt et une heures trente

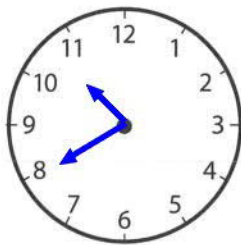
C = six heures moins le quart - dix sept heures quarante-cinq

D = dix heures - vingt-deux heures

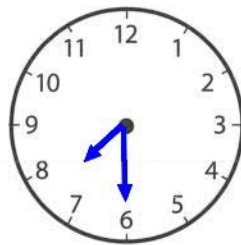
② **C'est le matin. Dessine les aiguilles sur les horloges.**



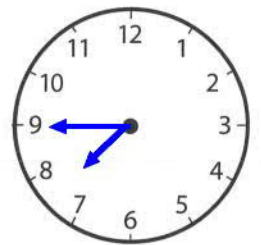
8 h 10



11 h moins 20

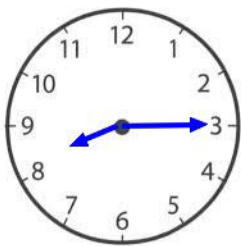


7 h et demie

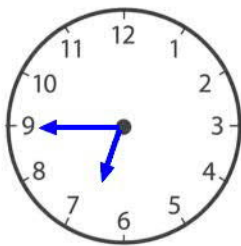


8 h moins le quart

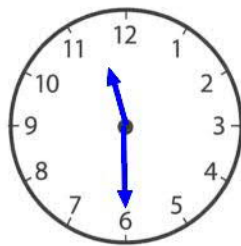
③ **C'est le soir. Dessine les aiguilles sur les horloges.**



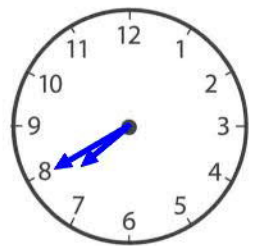
20 h 15



18 h 45



23 h 30



19 h 40