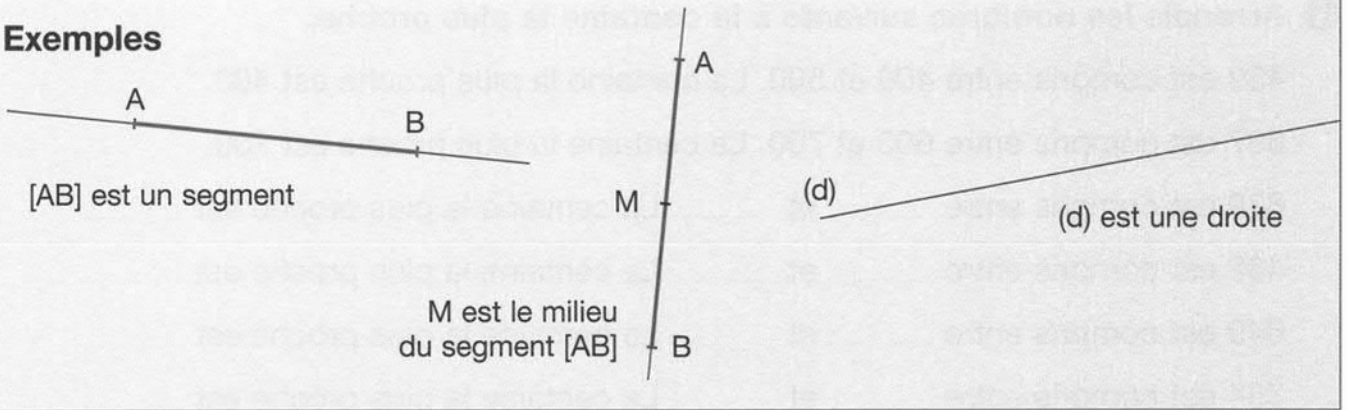
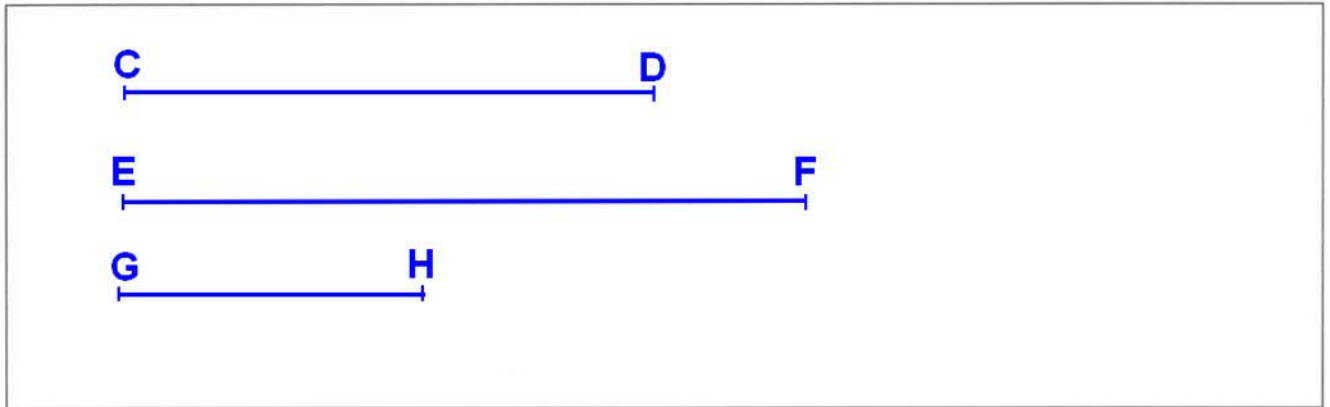


Les segments et le milieu d'un segment

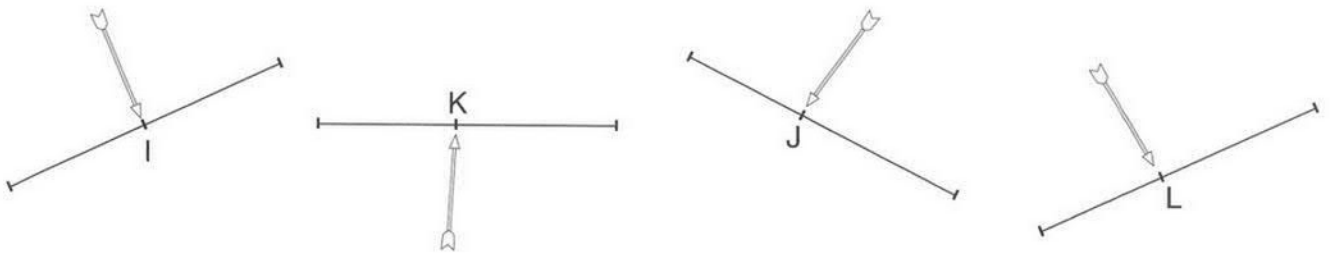
Exemples



- 1 Trace un segment [CD] de 7 cm, un segment [EF] de 9 cm, un segment [GH] de 4 cm dans le cadre ci-dessous.



- 2 Vérifie si les flèches sont bien plantées au milieu de chaque segment en utilisant l'instrument de ton choix (règle graduée, compas...) et colorie la bonne case.



La flèche I est au milieu du segment : Vrai Faux

La flèche K est au milieu du segment : Vrai Faux

La flèche J est au milieu du segment : Vrai Faux

La flèche L est au milieu du segment : Vrai Faux

- 3 Trace le milieu des segments suivants en utilisant ta règle graduée.

