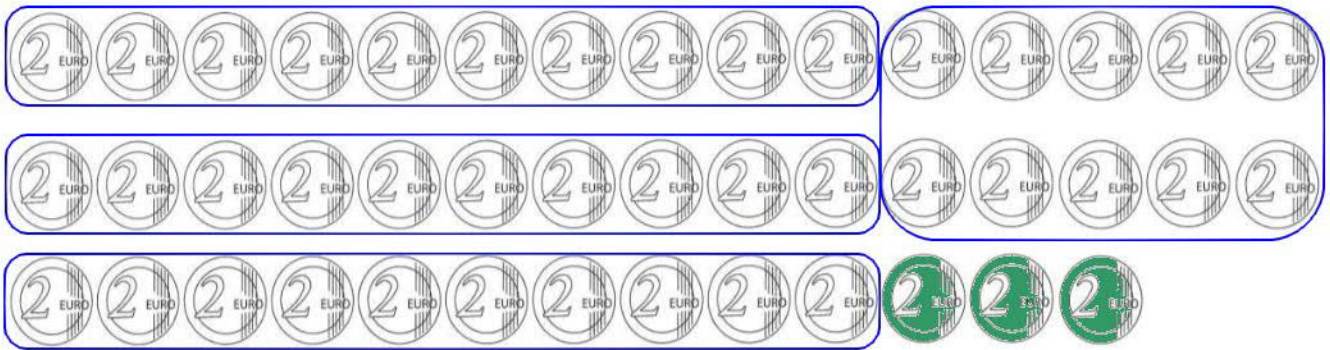




Vers la division (1)

- 1 L'institutrice d'une classe de grande section de l'école maternelle demande une participation de 2 € à chaque enfant pour assister à un spectacle de marionnettes.

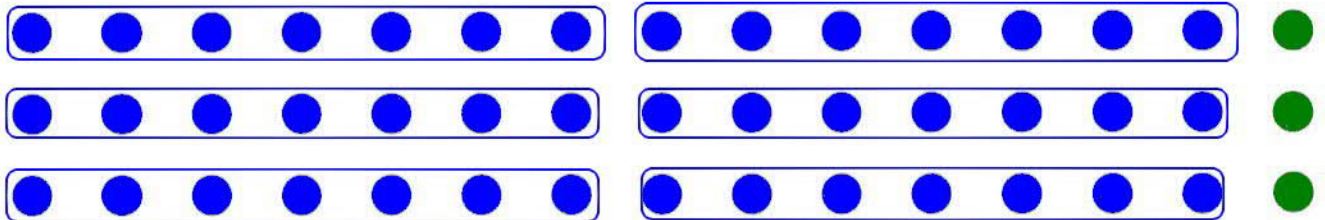
Pour compter la somme totale reçue pour ce spectacle, elle fait des tas de 10 pièces.



Complète : elle va faire 4 tas, il restera 3 pièces.

Total en euros = (4 x 20 €) + (3 x 2 €) = 86 €

- 2 Laura a acheté un sac de 45 perles. Elle fait des colliers de 7 perles chacun. Fais des groupements de 7 perles.

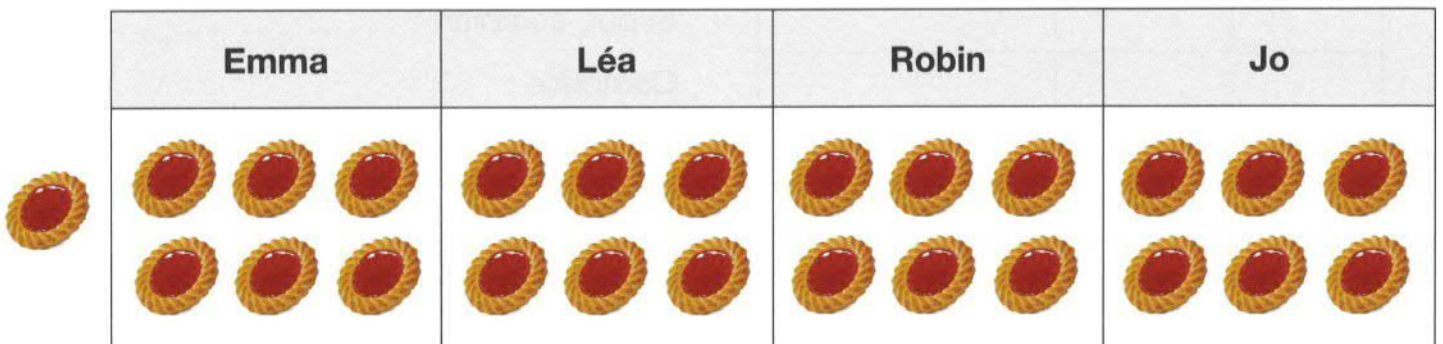


Combien Laura fait-elle de colliers ?

Complète : $45 = (\dots 6 \dots \times 7) + \dots 3 \dots$ Laura fait 6 colliers.

Combien lui restera-t-il de perles ? Il lui restera 3 perles.

- 3 Quatre enfants, Emma, Léa, Robin et Jo se partagent un paquet de 25 tartelettes. Combien en auront-ils chacun ? Dessine les tartelettes.



Chaque enfant aura 6 tartelettes. Il restera 1 tartelette.