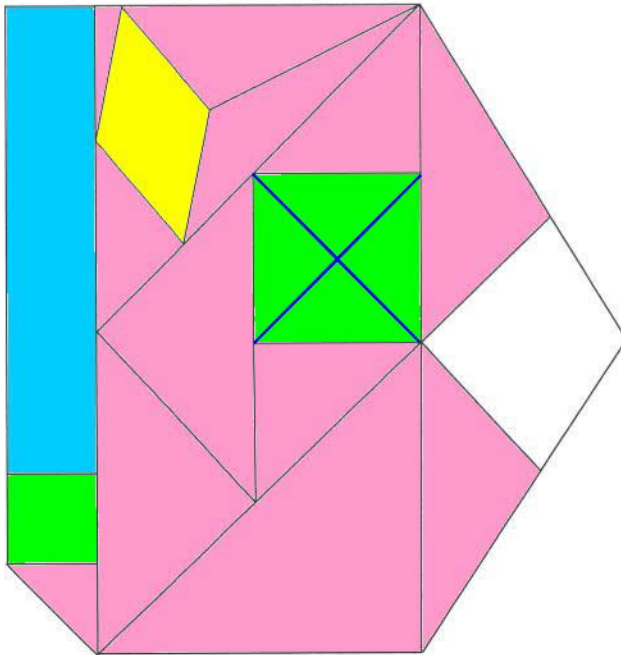


- ① Observe cette figure. Colorie en bleu les rectangles, en vert les carrés, en jaune les losanges, en rose les triangles rectangles.



Combien comptes-tu de losanges ?

Je compte un losange.

Quel polygone apparaît le plus sur cette figure complexe ?

Le polygone qui apparaît le plus est le triangle.

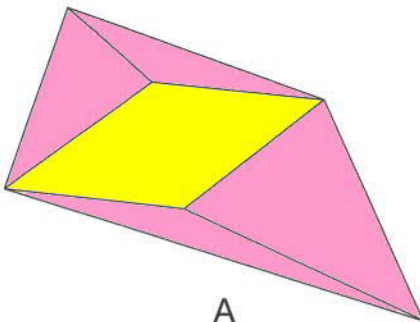
Trace les diagonales du plus grand carré.

Combien fais-tu apparaître de nouveaux polygones ? 4

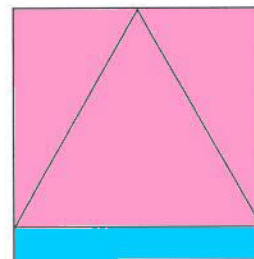
Quels sont ces polygones ?

Ce sont des triangles.

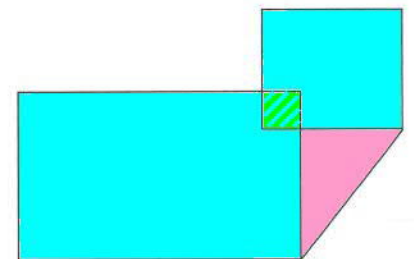
- ② De quelles figures s'agit-il ? Complète avec la lettre.



A



B



C

On peut voir trois triangles et un rectangle : C'est la figure B.

On peut voir quatre triangles et un losange : C'est la figure A.

On peut voir deux rectangles, un carré et un triangle : C'est la figure C.

- ③ À toi de décrire la figure ci-contre.

Je peux voir 1 carré, 4 triangles et aussi un losange en prenant la figure entière faite des 4 triangles et du carré.

