

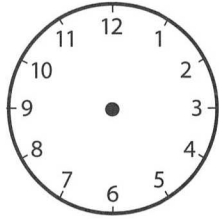


Mesurer des durées (2)

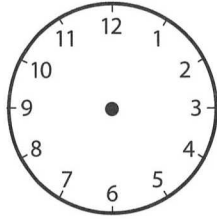


❶ Pierre consulte l'agenda de sa journée.

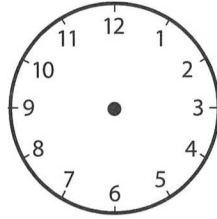
a) Complète ces cinq pendules.



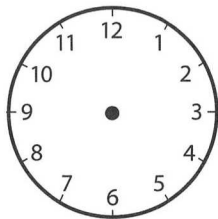
Coiffeur



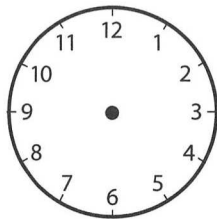
Golf



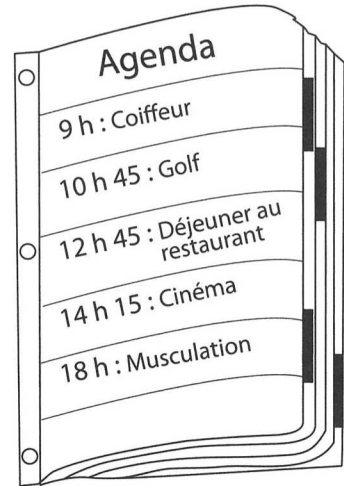
Restaurant



Cinéma



Musculation



b) Pierre reste une demi-heure chez le coiffeur.

Combien de temps lui restera-t-il avant de commencer sa partie de golf ?

.....

c) Pierre sort du restaurant à 14 h. Il lui faut 20 minutes pour se rendre au cinéma.

Combien de minutes de retard aura-t-il ?

.....

d) À 18 h 45, Pierre regarde une émission de jeux à la télé. Le trajet entre la salle de sports et son domicile dure un quart d'heure.

À quelle heure doit-il interrompre sa séance de musculation ?

.....

❷ Donne les durées en heures.

De 15 h à 22 h →

De 6 h 20 à 12 h 20 →

De 10 h 15 à 23 h 15 →

De midi à minuit →

❸ Timothée se couche tous les soirs à 20 h. Pendant le quart d'heure qui suit, sa maman lui lit une histoire puis éteint la lumière. Timothée s'endort aussitôt. Sa nuit dure 11 heures.

À quelle heure Timothée se réveille-t-il ?

.....