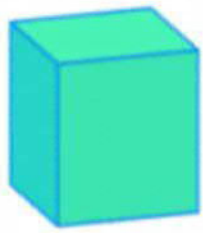


Les solides

1) Observe bien ces solides puis complète le tableau.



A



B



C



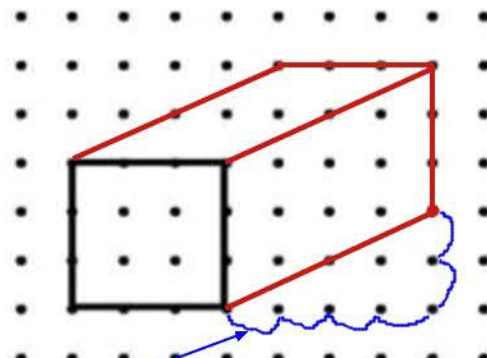
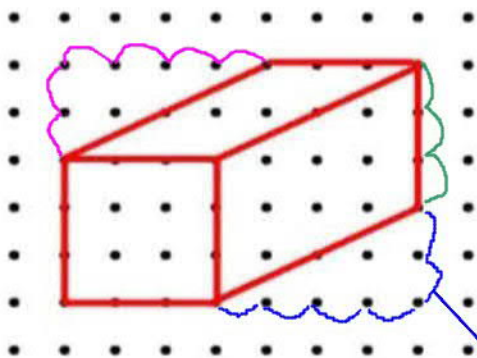
D



E

| Solides | Nombre de faces | Nombre de sommets | Nombre d'arêtes |
|---------|-----------------|-------------------|-----------------|
| A | 6 | 8 | 12 |
| B | 3 | 0 | 2 |
| C | ou 5 4 | 5 4 | 8 6 |
| D | 6 | 8 | 12 |
| E | 5 | 6 | 9 |

2) Reproduis le solide rouge 3 fois. Attention à bien compter les points sur chaque ligne avant de tracer.



Il faut compter les points et reporter sur l'autre figure.

