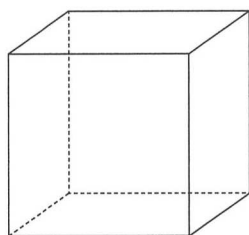



Les solides

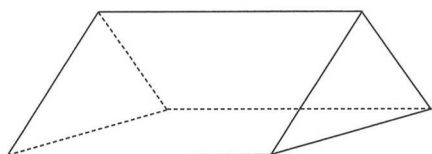
1 Observe ces quatre solides puis complète le tableau.



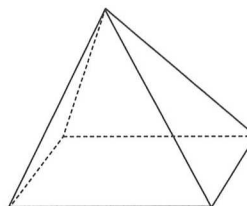
Cube



Pavé droit



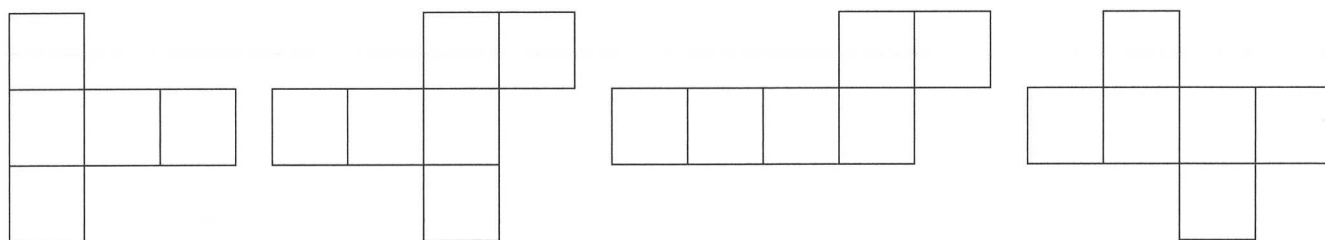
Prisme



Pyramide

	Cube	Pavé droit	Prisme	Pyramide
Arêtes	12			
Sommets				
Faces				

2 Si tu démontes une boîte en carton en forme de cube, quels patrons peux-tu obtenir ? Entoure-les.



3 Relie les solides à l'empreinte de leur face claire.

