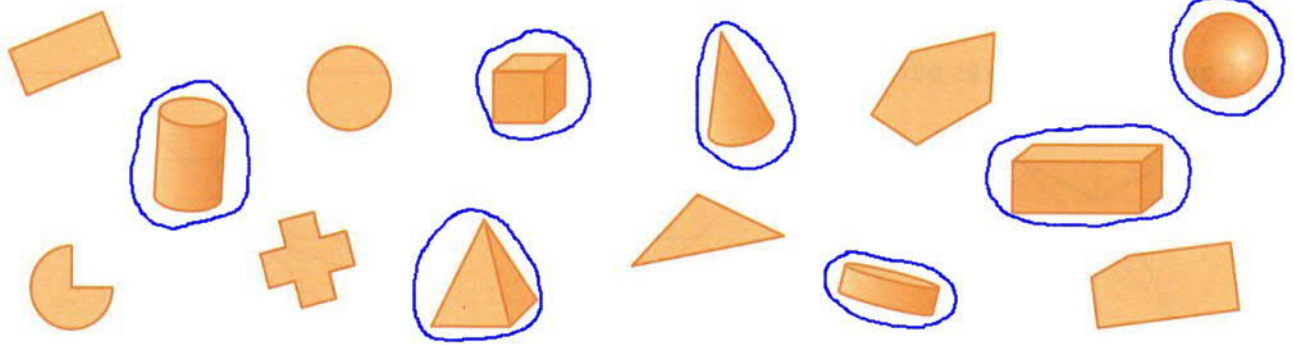
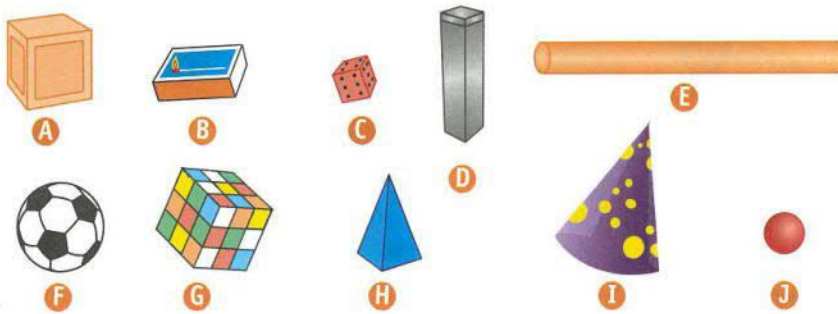


1 * Entoure les solides.




3 * Observe les solides, puis complète le tableau.



	Solides
Pyramide	H
Cylindre	E
Boule	J - F
Cône	I

4 * Quel solide a été stylisé dans chacune de ces œuvres d'art ?



pyramide



sphère



cube



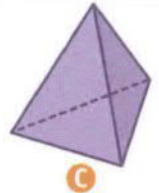
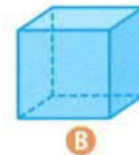
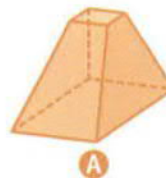
cylindre






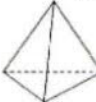

cône

5 * Complète pour chacun des solides.

- A : 6 faces, 12 arêtes, 8 sommets
 B : 6 faces, 12 arêtes, 8 sommets
 C : 4 faces, 6 arêtes, 4 sommets



6 * Complète avec le nom de chaque solide.

- a. J'ai des faces en forme de rectangle : \longrightarrow un pavé 
- b. J'ai n'ai pas de face plane : \longrightarrow une sphère 
- c. J'ai toutes mes faces carrées : \longrightarrow un cube 
- d. J'ai des faces triangulaires : \longrightarrow une pyramide 
- e. Deux de mes faces sont des disques : \longrightarrow un cylindre 
- f. Une seule de mes faces est un disque : \longrightarrow un cône 