

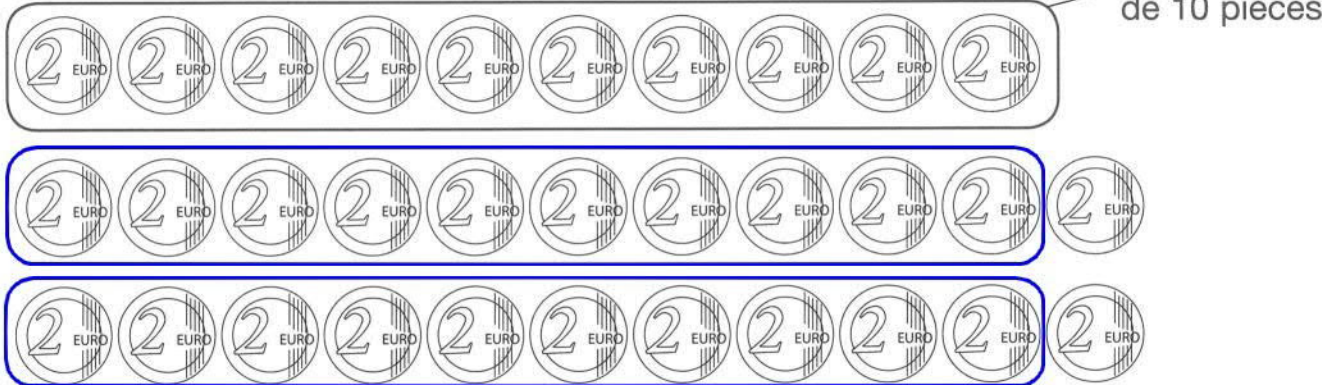


Vers la division (1)



- 1 L'institutrice d'une classe de grande section de l'école maternelle demande une participation de 2 € à chaque enfant pour assister à un spectacle de marionnettes.

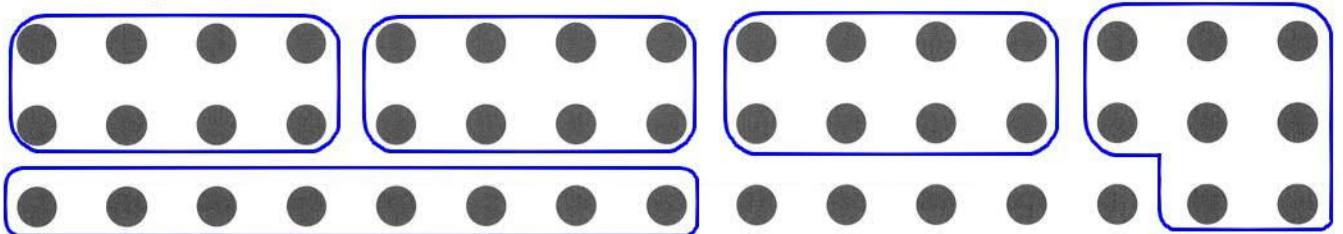
Pour compter la somme totale reçue pour ce spectacle, elle fait des tas de 10 pièces.



Complète : elle va faire 3 tas, il restera 2 pièces.

On écrit : (3 x 10) + 2 . La somme totale reçue est de $32 \times 2 = 64 \text{ €}$

- 2 Laura a acheté un sac de 45 perles. Elle fait des colliers de 8 perles chacun. Fais des groupements de 8 perles.








Combien Laura fait-elle de colliers ?

Complète : $45 = (8 \times \underline{5}) + \underline{5}$ Laura fait 5 colliers.

Combien lui restera-t-il de perles ? Il lui restera 5 perles.

- 3 Quatre enfants, Emma, Léa, Robin et Jo se partagent un paquet de 18 tartelettes. Combien en auront-ils chacun ? Dessine les tartelettes.

	Emma	Léa	Robin	Jo
				

Chaque enfant aura 4 tartelettes. Il restera 2 tartelettes.