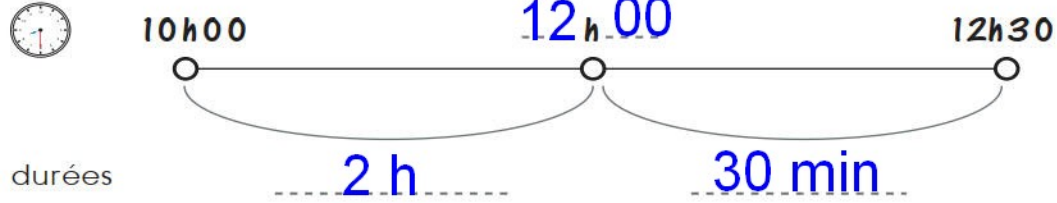
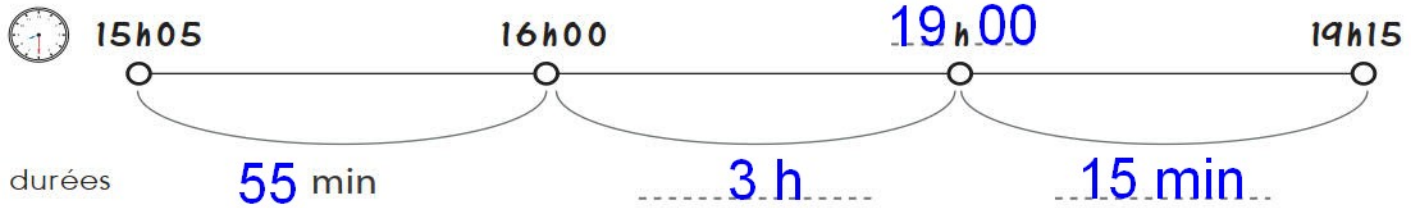


Calculer une durée en utilisant un schéma : Fiche 2



Durée totale de : 2 h 30 min

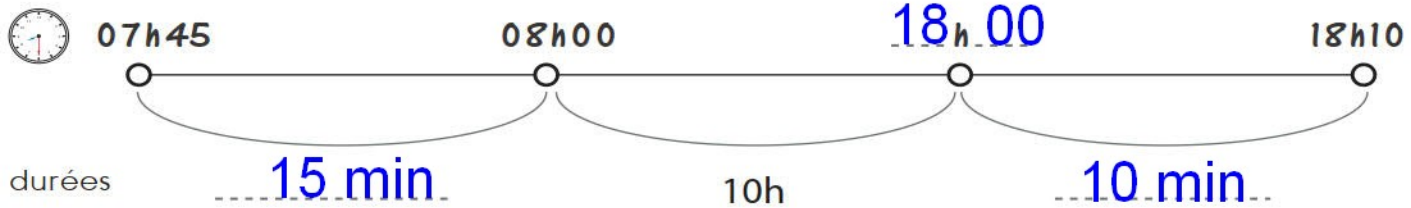
5



Durée totale de : 4 h 10 min

$55 + 15 \text{ min} = 1 \text{ h } 10 \text{ min}$

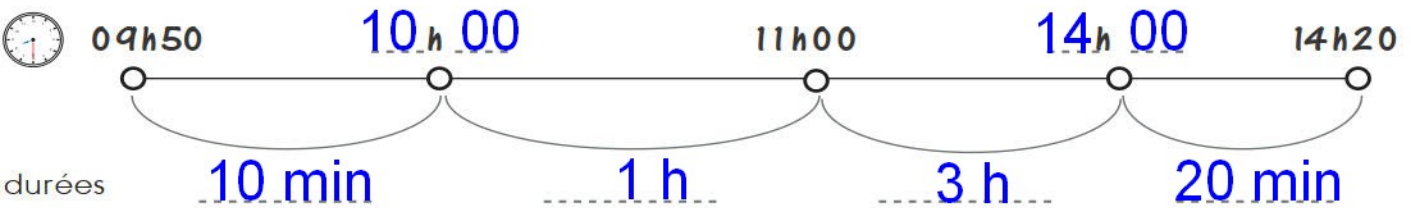
6



$15 \text{ min.} + 10 \text{ min.} = 25 \text{ min}$

Durée totale de : 10 h 25 min

7



$10 \text{ min.} + 20 \text{ min.} = 30 \text{ min}$

Durée totale de : 4 h 30 min

8