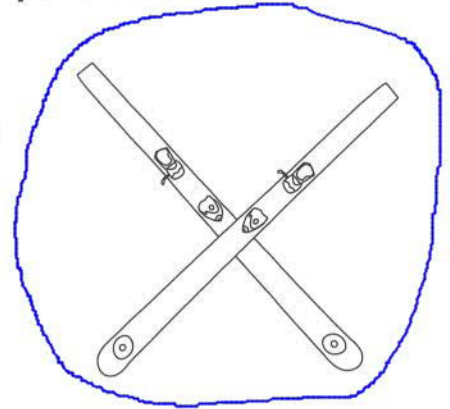
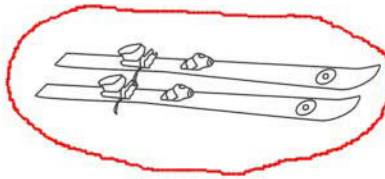
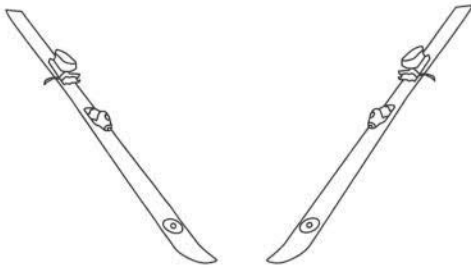


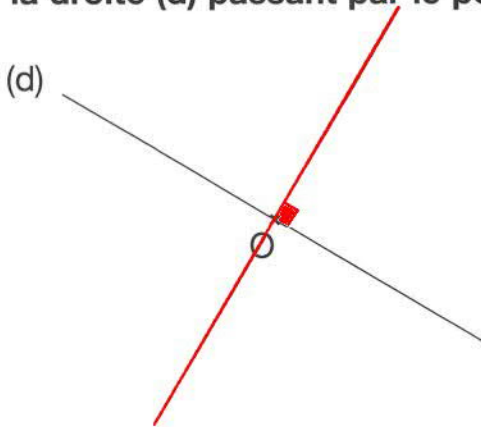
Les perpendiculaires et les parallèles (2)



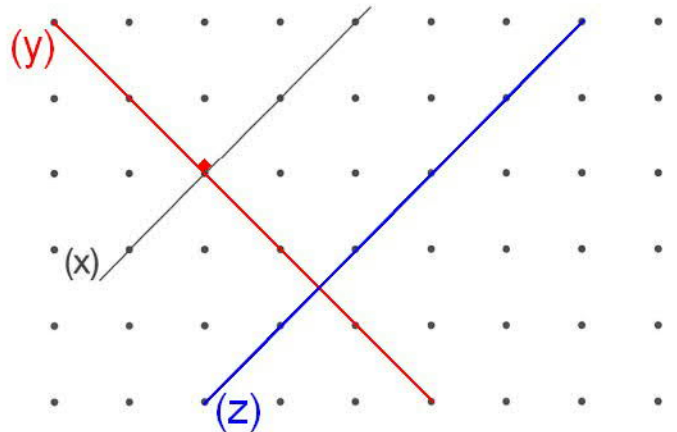
1 Entoure en rouge les skis parallèles, en bleu les skis perpendiculaires.






2 Trace une droite perpendiculaire à la droite (d) passant par le point O.



3 Trace une droite (y) perpendiculaire à la droite (x) et une droite (z) parallèle à la droite (x).



4 Avec l'instrument de ton choix, vérifie si les écarts entre les deux points sont les mêmes pour chaque couple de droites. Colorie les affirmations exactes.



Les droites (a) et (b) sont parallèles.

Les droites (c) et (d) sont parallèles.

Les droites (e) et (f) sont parallèles.