

Nombres et quantités : de 0 à 70



1 Colorie de la même couleur ce qui est identique:

64

soixante-huit

soixante-quatre

soixante-deux

$60+8$

66

soixante-six

$60+4$

$60+9$

$60+2$

69

68

soixante-neuf

$60+6$

62

Nombres et quantités: de 0 à 70





1 Ecris les nombres dans l'ordre croissant, du plus petit au plus grand:

52 - 63 - 51 - 65 - 68 - 58


□ □ □ □ □ □

2 Trouve combien Arthur a d'argent dans sa tirelire :



Nombres et quantités : de 0 à 70

3



15

1 Complète avec $<$, $>$ ou $=$:

62

.....

26

62

.....

42

46

.....

66

40

.....

50

60

.....

65

65

.....

9

2 Ecris les nombres dans l'ordre croissant, du plus grand au plus petit :

14 - 25 - 36 - 41 - 52 - 63

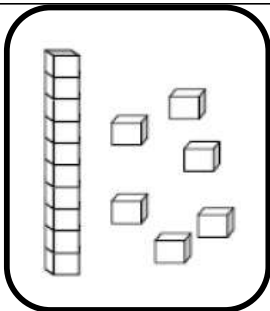
Nombres et quantités: de 0 à 70



1 Trouve le nombre qui vient avant et celui qui vient après

 — 68 — — 60 — — 61 — — 53 — — 35 — — 69 —

2 Dessine le nombre en barres



16

65

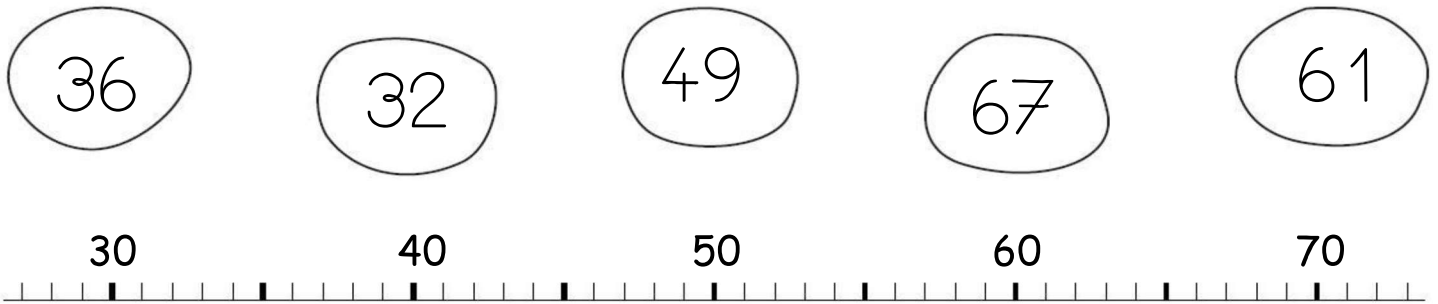
37

48


Nombres et quantités : de 0 à 70



1 Relie les nombres à leur place sur la droite graduée



2 Complète



Nombres et quantités : de 0 à 70



1 Complète avec <, > ou =:

61 $60 + 8$

$60 + 3$ 59

66 $50 + 8$

$50 + 9$ 65

67 $60 + 5$

$60 + 7$ 66

2 Ecris les nombres dans l'ordre croissant, du plus petit au plus grand:

52 - 12 - 68 - 47 - 45 - 62

□ □ □ □ □ □