



Sens des opérations

Représenter une situation.
Identifier l'opération.

Problèmes

Fiche n°


lundi mardi mercredi jeudi vendredi samedi dimanche



/ /

1

petit



J'entoure dans le texte ce que je vais dessiner, je complète le dessin, puis je réponds.


Léo a 9 billes, il en gagne 4 à la récréation.

♥ Combien a-t-il de billes maintenant ?

◆ $9 + 4 = 13$

♣ Léo a 13 billes.

2




Adèle a 10 bonbons elle en donne 4 à ses amies.

♥ Combien lui en reste-t-il ?

◆ $10 - 4 = 6$

♣ Il lui reste 6 bonbons

3



Lucia a 12 crayons dans sa trousse, 5 crayons sont rouges Les autres sont bleus.

♥ Combien a-t-elle de crayons bleus ?

◆ $12 - 5 = 7$

♣ Lucia a 7 crayons bleus.