



## Sens des opérations

Représenter une situation.  
Identifier l'opération.

Problèmes

Fiche n°

lundi

mardi

mercredi

jeudi

vendredi

samedi

dimanche



/

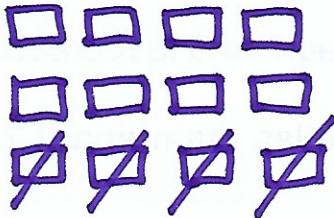
/

1

netit



J'entoure dans le texte ce que je vais dessiner, je complète le dessin, puis je réponds.




Kylian a 12 cartes, il en donne 4 à son ami.

♥ Combien a-t-il de cartes maintenant ?

♦  $12 - 4 = 8$

✦ Il a 8 cartes.

2




Yanis a 8 cerises, il en mange 3.

♥ Combien lui en reste-t-il ?

♦  $8 - 3 = 5$

✦ Il lui reste 5 cerises.

3



Timéo a dans sa trousse 4 crayons verts, 3 crayons rouges et 6 crayons jaunes.

♥ Combien a-t-il de crayons ?

♦  $4 + 3 + 6 = 13$

✦ Il a 13 crayons.