



Sens des opérations

Représenter une situation.

Identifier l'opération.

Problèmes

Fiche n°

lundi mardi mercredi jeudi vendredi samedi dimanche

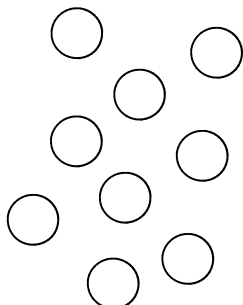


/ /

1



J'entoure dans le texte ce que je vais dessiner, je complète le dessin, puis je réponds.



Léo a 9 billes, il en gagne 4 à la récréation.


♥ Combien a-t-il de billes maintenant ?



[Dashed box for answer]

♣ Léo a ____ billes

2



Adèle a 10 bonbons elle en donne 4 à ses amies.


♥ Combien lui en reste-t-il ?



[Dashed box for answer]

♣ Il lui reste ____ bonbons

3



Lucia a 12 crayons dans sa trousse, 5 crayons sont rouges Les autres sont bleus.

♥ Combien a-t-elle de crayons bleus ?



[Dashed box for answer]

♣ Lucia a ____ crayons bleus



Sens des opérations

Représenter une situation.
Identifier l'opération.

Problèmes

Fiche n°


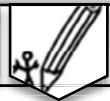
lundi mardi mercredi jeudi vendredi samedi dimanche



/ /

1

netit



J'entoure dans le texte ce que je vais dessiner, je complète le dessin, puis je réponds.

Kylian a 12 cartes, il en donne 4 à son ami.

♥ Combien a-t-il de cartes maintenant ?

◆

♣ Il a ____ cartes.

2

Yanis a 8 cerises, il en mange 3 .

♥ Combien lui en reste-t-il ?

◆

♣ Il lui reste ____ cerises.

3

Timéo a dans sa trousse
4 crayons verts, 3 crayons rouges
et 6 crayons jaunes.

♥ Combien a-t-il de crayons ?

◆

♣ Il a ____ crayons.