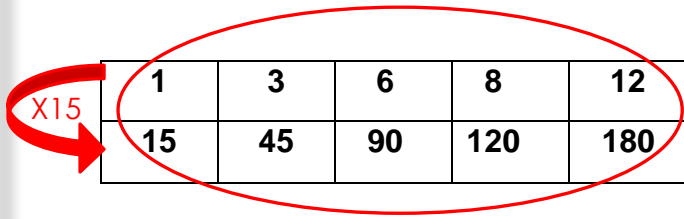
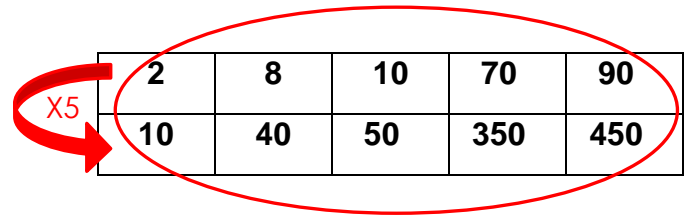


# Tableau de proportionnalité

## 1- Entoure uniquement les tableaux de proportionnalité




1	3	6	8	12
15	45	90	120	180



2	8	10	70	90
10	40	50	350	450

~~|    |    |    |    |    |
|----|----|----|----|----|
| 21 | 42 | 56 | 77 | 98 |
| 3  | 6  | 7  | 11 | 14 |~~
~~|   |   |    |    |     |
|---|---|----|----|-----|
| 0 | 3 | 12 | 15 | 100 |
| 3 | 9 | 36 | 45 | 300 |~~

## 2- Complète ce tableau de proportionnalité



Paquet de bonbons	1	3	4	6	7	9	11	15
Quantité de bonbons	8	24	32	48	56	72	88	120